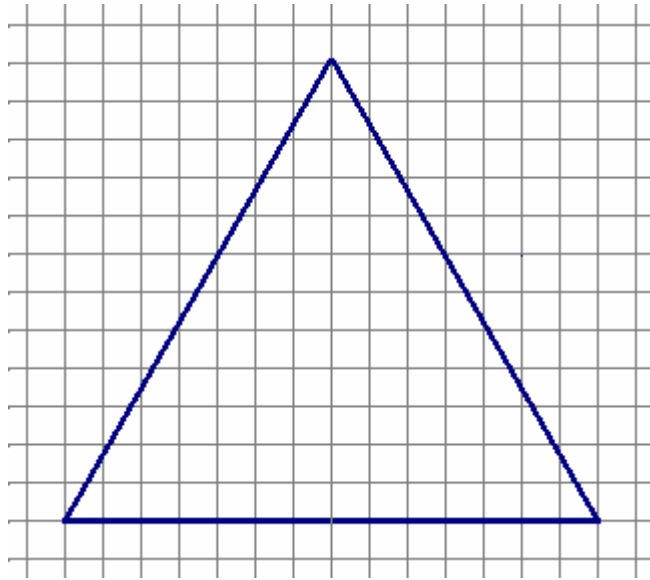




DAS GLEICHSEITIGE DREIECK



 Beschrifte alle Eckpunkte und Seiten, zeichne die Höhen ein!

 Was fällt dir an den Seiten auf? Miss ihre Längen nach!

⇒ Ein gleichseitiges Dreieck hat _____ Seiten.

 Was fällt dir an den Winkeln auf? Miss ihre Größe nach!

⇒ Ein gleichseitiges Dreieck hat _____ Winkel.

⇒ Ein Winkel ist _____ groß.

Wichtige Formeln

⇒ Flächeninhalt: **A =**

⇒ Umfang: **u =**