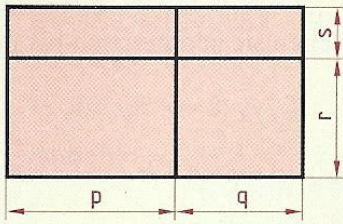
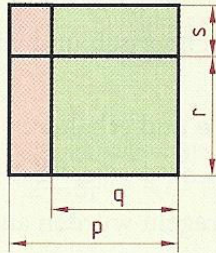


Welche Formel ist durch die rote Fläche dargestellt?  
Erkläre diese Formel anhand der Figur!

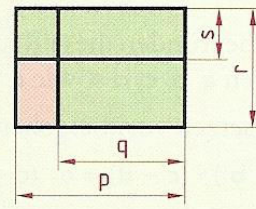
a)



b)



c)



Quelle

Reichel, H./Litschauer, D./Gross, H. (2001): *Das ist Mathematik 3*, öbv&hpt VerlagsgmbH & Co. KG